

ශ්‍රී ලංකා විභාග දෙපාර්තමේන්තුව ශ්‍රී ලංකා විභාග දෙපාර්තමේන්තුව ශ්‍රී ලංකා විභාග දෙපාර්තමේන්තුව  
 இலங்கைப் பரீட்சைத் திணைக்களம் இலங்கைப் பரීட்சைத் திணைக்களம் இலங்கைப் பரීட்சைத் திணைக்களம்  
 Department of Examinations, Sri Lanka Department of Examinations, Sri Lanka Department of Examinations, Sri Lanka  
 41 STE I, II  
 இலங்கைப் பரීட்சைத் திணைக்களம் Department of Examinations, Sri Lanka இலங்கைப் பரීட்சைத் திணைக்களம்

අධ්‍යයන පොදු සහතික පත්‍ර (සාමාන්‍ය පෙළ) විභාගය, 2018 දෙසැම්බර්  
 கல்விப் பொதுத் தராதரப் பத்திர (சாதாரண தர)ப் பரீட்சை, 2018 டிசெம்பர்  
 General Certificate of Education (Ord. Level) Examination, December 2018

සංගීතය (අපරදිග) I, II  
 சங்கீதம் (மேலைத்தேய) I, II  
 Music (Western) I, II

11.12.2018 / 0830 - 1140

පැය තුනයි  
 மூன்று மணித்தியாலம்  
 Three hours

අමතර කියවීමේ කාලය - මිනිත්තු 10 යි  
 மேலதிக வாசிப்பு நேரம் - 10 நிமிடங்கள்  
 Additional Reading Time - 10 minutes

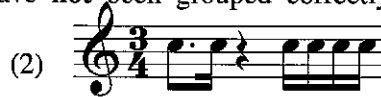
අමතර කියවීමේ කාලය ප්‍රශ්න පත්‍රය කියවා ප්‍රශ්න තෝරා ගැනීමටත් පිළිතුරු ලිවීමේදී ප්‍රමුඛත්වය දෙන ප්‍රශ්න සංවිධානය කර ගැනීමටත් යොදාගන්න.  
 வினாப்பத்திரத்தை வாசித்து, வினாக்களைத் தெரிவுசெய்வதற்கும் விடை எழுதும்போது முன்னுரிமை வழங்கும் வினாக்களை ஒழுங்கமைத்துக் கொள்வதற்கும் மேலதிக வாசிப்பு நேரத்தைப் பயன்படுத்துக.  
 Use additional reading time to go through the question paper, select the questions and decide on the questions that you give priority in answering.

සංගීතය (අපරදිග) / சங்கீதம் (மேலைத்தேய) / Music (Western) I


සැලකිය යුතුයි/முக்கியம்/ Note :

- සියලු ම ප්‍රශ්නවලට පිළිතුරු සපයන්න.  
 எல்லா வினாக்களுக்கும் விடை தருக.  
 Answer all questions.
- 1-40 තෙක් ප්‍රශ්නවල (1), (2), (3), (4) පිළිතුරුවලින් නිවැරදි හෝ වඩාත් ගැළපෙන හෝ පිළිතුර තෝරා ගන්න.  
 1 முதல் 40 வரையுள்ள ஒவ்வொரு வினாவிலும் (1), (2), (3), (4) என எண்ணிடப்பட்ட விடைகளில் சரியானது அல்லது மிகப் பொருத்தமானது என நீங்கள் கருதும் ஒரு விடையைத் தெரிவுசெய்க.  
 From each of the questions 1 to 40, pick one of the alternatives (1), (2), (3), (4) which you consider is correct or most appropriate.
- ඔබට සැපයෙන පිළිතුරු පත්‍රයේ එක් එක් ප්‍රශ්නය සඳහා දී ඇති කව අතුරෙන් ඔබ තෝරා ගත් පිළිතුරේ අංකයට සැසඳෙන කවය තුළ (X) ලකුණ යොදන්න.  
 உமக்கு வழங்கப்பட்டுள்ள விடைத்தாளில் ஒவ்வொரு வினாவுக்கும் உரிய வட்டங்களில் உமது விடையின் இலக்கத்தை ஒத்த வட்டத்தினுள்ளே புள்ளடியை (X) இடுக.  
 Mark a cross (X) on the number corresponding to your choice in the answer sheet provided.
- එම පිළිතුරු පත්‍රයේ පිටුපස දී ඇති අනෙක් උපදෙස් ද සැලකිල්ලට ගන්න.  
 விடைத்தாளின் பிற்பக்கத்தில் தரப்பட்டுள்ள மற்றைய அறிவுறுத்தல்களையும் கவனமாக வாசித்து அவற்றைப் பின்பற்று.  
 Further instructions are given on the back of the answer sheet. Follow them carefully.

- G ක්ලේෆ් හි D ෆ්ලැට් (ස්ටේවයෙන් පහළ) හා D ෆ්ලැට් (4 වැනි රේඛාවේ පිහිටි) ස්වර අතර ඇති ටෝන්ස් ගණන කීය ද?  
 G கிளேப் இல் D ப்ளட் இற்கும் (ஸ்டேவிற்குக் கீழே) D ப்ளட் (4 ஆவது கோட்டிலமைந்துள்ள) ஸ்வரத்துக்கும் இடையிலான டோன்களின் எண்ணிக்கை யாது?  
 How many tones are there between D flat (below the staff) and D flat (4<sup>th</sup> line) in G clef?  
 (1) 5 (2) 4½ (3) 5½ (4) 6
- පහත සඳහන් තෝරිස් සහ රෙස්ට්ස් නිවැරදිව කාණ්ඩ කර නොමැති බාරය තෝරන්න.  
 பின்வருவனவற்றுள் நோட்ஸ், ரெஸ்ட்ஸ் ஆகியன சரியாகத் துண்டமாக்கப்படாத பார் இணைத் தெரிவுசெய்க.  
 Select the bar in which the notes and rests have not been grouped correctly.



3. දී ඇති මයිනර් කී එකෙහි ලීඩිං නෝට් එක මේවායින් කුමක් ද?  
இவற்றுள் தரப்பட்டுள்ள மைனர் கீ இன் லீடிங் நோட் எது?  
Which of the following, would be the Leading note of the given minor key?



- (1) (2) (3) (4)

4. දී ඇති නිදසුන සඳහා දැක්විය හැකි කෝඩ් එක වන්නේ මේවායින් කුමක් ද?  
இவற்றுள் தரப்பட்டுள்ள உதாரணத்துக்காக காட்டக்கூடிய கோட் எது?  
What would be the chord indication for the given example?



- (1) Vb (2) iib (3) IV (4) Vc

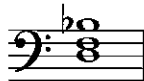
5. G මයිනර් ස්කේලයේ අඩංගු පර්ෆෙක්ට් 4 ක් වනුයේ මේවායින් කවරක් ද?  
இவற்றுள் G மைனர் ஸ்கேலில் உள்ளடங்கியுள்ள பர்பெக்ட்கள் 4 ஐக் காட்டும் விடை எது?  
Which of these would be the perfect 4<sup>th</sup> occurring in the scale of G minor?

- (1) (2) (3) (4)

6. E මේජරයේ ඩොමිනන්ට් 7 කෝඩ් එක වනුයේ මේවායින් කුමක් ද?  
இவற்றுள் E மேஜரின் டொமினன்ட் 7 ஆவது கோட் எது?  
Which of these would be the Dominant 7<sup>th</sup> chord of E major?

- (1) (2) (3) (4)

7. මෙම වොනික් ට්‍රයඩිය ඇත්තේ කුමන කී එකේ ද?  
இந்த ரொனிக் ட்ரயட் உள்ளடங்கும் கீ எது?  
In which key would this be the tonic triad?

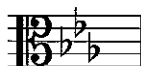


- (1) B flat major (2) G minor (3) D minor (4) G major

8. 'පියු මොසෝ' හි ඉංග්‍රීසි අරුත වන්නේ,  
'පියු මොසෝ' என்பதன் ஆங்கிலக் கருத்தானது,  
The English meaning of 'Piu Mosso' would be,


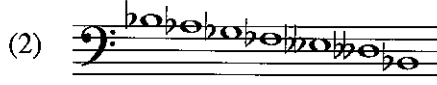
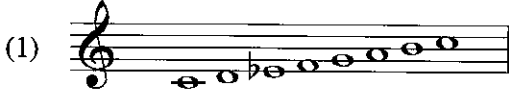
- (1) Slower at once/ Less moved (2) Hurrying the speed/Gradually becoming faster  
(3) Quicker at once/More moved (4) Strengthening the tone/Medium tone

9. දී ඇති කී සිග්නේචරය අයත් වන්නේ මේවායින් කුමන මයිනර් ස්කේලයට ද?  
தரப்பட்டுள்ள கீ சிக்னேச்சர் இவற்றுள் எந்த மைனர் ஸ்கெலிற்கு உரித்தாகும்?  
Which minor scale has the given key signature?



- (1) B minor (2) E minor (3) C minor (4) G sharp minor

10. මේවායින් සෙමිටෝන්ස් නොමැත්තේ කුමක ද?  
 இவற்றுள் செமிரோன்ஸ் இல்லாதது எது?  
 Which of the following does not have semitones?



11. G ඩබල් ෂාප් ස්වරය ටෝන් එකකින් පහත දැමූ විට ලැබෙන්නේ මේවායින් කුමන ස්වරයක් ද?  
 G උඩල් ඛෘථ්‍ය ස්වරයේ ඉහළින් සිටින ඉන්ද්‍රියයක් සහිතව ක්‍රියාත්මක වන විට ලැබෙන්නේ මේවායින් කුමන ස්වරයක් ද?  
 Which of the following is the note lowered a tone from G double sharp?  
 (1) G natural (2) A double sharp (3) G flat (4) A flat

12. B මේජරයේ ඉම්පර්ෆෙක්ට් කැඩන්සයේ බේස් ස්වර දැක්වෙන වරණය කුමක් ද?  
 B මේජරයේ ඉම්පර්ෆෙක්ට් කැඩන්සයේ බේස් ස්වර දැක්වෙන වරණය කුමක් ද?  
 B මේජරයේ ඉම්පර්ෆෙක්ට් කැඩන්සයේ බේස් ස්වර දැක්වෙන වරණය කුමක් ද?  
 Which option gives the Bass notes of the Imperfect Cadence of B major?  
 (1) F sharp - B (2) E - B (3) B - F sharp (4) F - B

13. මෙම අලංකරණය වාදනය කරන ආකාරය නිවැරදිව දක්වන ස්වර රටාව වන්නේ මේවායින් කුමක් ද?  
 இந்த ஓர் அலங்காரம் இயைபு இயைக்கும் விதம் சரியாகக் காட்டப்பட்டுள்ள ஸ்வர வரிசை இவற்றுள் எது?  
 Which of the following illustrates the correct pattern of notes when the given ornament is played?



14. වාදකයින් පස්දෙනකුගෙන් යුත් කණ්ඩායමක් නම් කරන්නේ කෙසේ ද?  
 இசைக்கருவிகளை இசைக்கும் ஐவரைக் கொண்டதொரு குழு பின்வரும் எந்தப் பெயரால் அழைக்கப்படும்?  
 What is the name given to a group of five players performing together?  
 (1) Quintet (2) Septolet (3) Quartet (4) Octet

15. දී ඇති ස්වරයේ සංඛ්‍යාතය (තත්පරයට කම්පන වාර ගණන) වන්නේ කුමක් ද?  
 தரப்பட்டுள்ள ஸ்வரத்தின் அதிர்வெண் (ஒரு செக்கனில் ஏற்படும் அதிர்வலைகளின் எண்ணிக்கை) யாது?  
 Which of the following is the frequency of the given note?



(1) 256 HZ

(2) 220 HZ

(3) 540 HZ

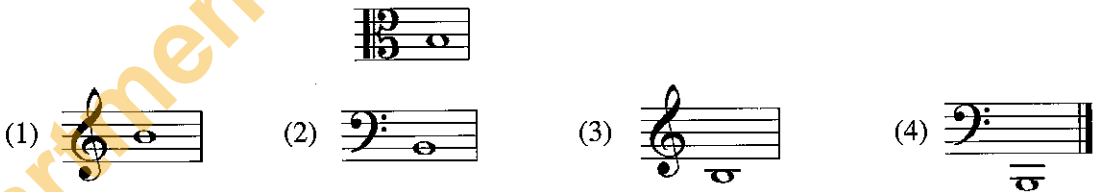
(4) 440 HZ

16. මරටෝරියෝවක් විස්තර කරන්නේ මේවායින් කුමක් ද?  
 இவற்றுள் எது ஓரடோரியோ ஒன்றை விவரிக்கிறது?  
 Which of the following describes an Oratorio?

- (1) An instrumental composition  
 (2) A musical story with acting and song  
 (3) A biblical story set to music and voice  
 (4) A dramatic composition with music and drama



25. 'පොකුරු බෙරය' නමින් ද හඳුන්වන්නේ  
'පොக்குරු පෙරය' என்ற பெயரினாலும் அழைக்கப்படுவது  
Another name for 'Pokuru Beraya' is  
(1) Thammattama. (2) Udakkiya. (3) Devol beraya. (4) Geta beraya.
26. පෙඩල් තුනක් සහිත නවීන අප්රයිට් පියානෝවේ දකුණු පෙඩලය වන්නේ පහත සඳහන් ඒවා අතුරෙන් කවරක් ද?  
මුණුරු පෙඩලයන් කොண்ட් නවීන අප්රයිට් පියානෝවின் வலதுபக்க පෙඩලයක அமைவது பின்வருவனவற்றுள்  
எது?  
Which of the following is the pedal on the right of a modern upright piano equipped with three pedals?  
(1) Sostenuto pedal (2) Una Corde pedal (3) Damper pedal (4) Legato Pedal
27. කන්ඩක්ටර් කෙනෙක් නොමැතිව වාදනය කළ හැක්කේ මේවායින් කුමක් ද?  
கண்டக்டர் ஒருவர் இன்றி இவற்றில் எதனை இசைக்கலாம்?  
Which of these can be played without a conductor?  
(1) Eroica Symphony (2) William Tell Overture  
(3) Trout Quintet (4) Clock Symphony
28. බැලේ එකක් නොවනුයේ මේවායින් කුමක් ද?  
இவற்றுள் பெலே அல்லாதது எது?  
Which of these is **not** a ballet?  
(1) Liebestraum (2) Petroushka (3) Swan Lake (4) Sleeping Beauty
29. සම්මත බේස් ගීටාරයක ඇති තත් ගණන කීය ද?  
நியம பேஸ் கிட்டாரொன்றிலுள்ள இழைகளின் எண்ணிக்கை யாது?  
How many strings would a standard Bass guitar have?  
(1) 7 (2) 6 (3) 5 (4) 4
30. 'ප්‍රොග්‍රැම් සංගීතය' ප්‍රචලිත වූ කාල වකවානුව කුමක් ද?  
'புரோகிராம் மியசிக்' என்பது எக்காலப்பகுதியில் பிரபல்யமடைந்தது?  
During which period was 'programme music' popular?  
(1) Baroque period (2) Classical period (3) Romantic period (4) Modern period
31. ඩියුක් එලින්ටන් හා සම්බන්ධ වූයේ  
டியුක් எலின்ரன் உடன் தொடர்புடையவர்  
Duke Ellington was associated with  
(1) Blues. (2) Swing. (3) Be bop. (4) Jazz.
32. පර්ෆෙක්ට් 5 ක් පහළින් ඇසෙන සංගීත භාණ්ඩ යුගලය මේවායින් කුමක් ද?  
இவற்றுள் 5 பர்பெக்ட් கீழாகக் கேட்கும் இசைக்கருவிகளின் சோடி எது?  
Which of the following pairs of instruments sound a Perfect 5<sup>th</sup> lower?  
(1) Cor Anglais/Trumpet in B flat (2) Piccolo/Oboe  
(3) Clarinet in A/Flute (4) Cor Anglais/Horn in F
33. දී ඇති ස්වරයට සමාන ශ්‍රැතියකින් ඇත්තේ පහත දැක්වෙන කිනම් ස්වරය ද?  
தரப்பட்டுள்ள ஸ்வரத்திற்குச் சமமான சுருதியுடன் எழுதப்பட்டுள்ள ஸ்வரம் பின்வருவனவற்றுள் எது?  
Which of the following is written in the same pitch as the given note?





ශ්‍රී ලංකා විභාග දෙපාර්තමේන්තුව ශ්‍රී ලංකා විභාග දෙපාර්තමේන්තුව ශ්‍රී ලංකා විභාග දෙපාර්තමේන්තුව ශ්‍රී ලංකා විභාග දෙපාර්තමේන්තුව ශ්‍රී ලංකා විභාග දෙපාර්තමේන්තුව  
 இலங்கைப் பரீட்சைத் திணைக்களம் இலங்கைப் பரීட்சைத் திணைக்களம் இலங்கைப் பரීட்சைத் திணைக்களம் இலங்கைப் பரීட்சைத் திணைக்களம் இலங்கைப் பரීட்சைத் திணைக்களம்  
 Department of Examinations, Sri Lanka Department of Examinations, Sri Lanka Department of Examinations, Sri Lanka Department of Examinations, Sri Lanka Department of Examinations, Sri Lanka  
 ශ්‍රී ලංකා විභාග දෙපාර්තමේන්තුව ශ්‍රී ලංකා විභාග දෙපාර්තමේන්තුව ශ්‍රී ලංකා විභාග දෙපාර්තමේන්තුව ශ්‍රී ලංකා විභාග දෙපාර්තමේන්තුව ශ්‍රී ලංකා විභාග දෙපාර්තමේන්තුව  
 இலங்கைப் பரීட்சைத் திணைக்களம் இலங்கைப் பரීட்சைத் திணைக்களம் இலங்கைப் பரීட்சைத் திணைக்களம் இலங்கைப் பரීட்சைத் திணைக்களம் இலங்கைப் பரීட்சைத் திணைக்களம்  
 Department of Examinations, Sri Lanka Department of Examinations, Sri Lanka Department of Examinations, Sri Lanka Department of Examinations, Sri Lanka Department of Examinations, Sri Lanka

41 STE I, II

අධ්‍යයන පොදු සහතික පත්‍ර (සාමාන්‍ය පෙළ) විභාගය, 2018 දෙසැම්බර්  
 கல்விப் பொதுத் தராதரப் பத்திர (சாதாரண தர)ப் பரீட்சை, 2018 டிசெம்பர்  
 General Certificate of Education (Ord. Level) Examination, December 2018

සංගීතය (අපරදීග) I, II  
 சங்கீதம் (மேலைத்தேய) I, II  
 Music (Western) I, II

සංගීතය (අපරදීග) / சங்கீதம் (மேலைத்தேய) / Music (Western) II

1 වන ප්‍රශ්නය ඇතුළුව A හා B කොටස්වලින් ප්‍රශ්න දෙක බැගින් තෝරාගෙන, ප්‍රශ්න පහකට පිළිතුරු මෙම පත්‍රයේ ම සපයන්න.  
 1 ஆம் வினா உட்பட பகுதி A, பகுதி B என்பவற்றிலிருந்து இவ்விரண்டு வினாக்களைத் தெரிவுசெய்து, எல்லாமாக ஐந்து வினாக்களுக்கு இத்தாளிலேயே விடை தருக.  
 Answer five questions including question No. 1 and selecting two questions from each of the parts A and B on this paper itself.

විභාග අංකය / சுட்டுண் / Index No. ....

For Examiners' Use only

(41) Music (Western) II		
Part	Question No.	Marks Awarded
I	1	
A	2	
	3	
	4	
B	5	
	6	
	7	
Total		

Paper I	
Paper II	
Total (Out of 100)	

Final Mark

In Numbers	
In Words	

Code Number

Marking Examiner	
Marks Checked by:	1
	2
Supervised by	

1. පහත දී ඇති සංගීත බණ්ඩය අධ්‍යයනය කර අසා ඇති ප්‍රශ්නවලට පිළිතුරු සපයන්න.  
கீழே தரப்பட்டுள்ள இசைப் பெயர்ப்பைக் கற்று கேட்கப்பட்டுள்ள வினாக்களுக்கு விடை எழுதுக.  
Study the musical extract given below and answer the questions.

## Allegretto

- (i) මෙම සංගීත බණ්ඩයේ කී එක නම් කරන්න.  
இந்த இசைப் பெயர்ப்பின் கீ இணைப் பெயரிடுக.  
Name the key of the musical extract.
- .....
- (ii) මෙම සංගීත බණ්ඩය එම ස්කේලයේ කිනම් ස්වරයෙන් ආරම්භ වේ ද?  
இந்த இசை பெயர்ப்பு அந்த ஸ்கேலின் எந்த ஸ்வரத்தில் ஆரம்பிக்கும்?  
In which degree of this scale does the musical extract begin?
- .....
- (iii) මෙම සංගීත බණ්ඩය බාර් 4 හා 8 දී වෙනත් කී එකකට මාරු වේ. එම කී එක නම් කරන්න.  
இந்த இசைப் பெயர்ப்பு 4, 8 பார்க்களில் வேறு கீ ஒன்றுக்கு மாற்றமடையும், அந்தக் கீ இணைப் பெயரிடுக.  
The music modulates to another key in bar 4 and bar 8. Name the key.
- .....
- (iv) මෙම සංගීත බණ්ඩයේ ටයිම් සිග්නේචරය විස්තර කරන්න.  
இந்த இசைப் பெயர்ப்பின் ரைம் சிக்னேச்சரை விவரிக்கുക.  
Describe the time signature of this musical extract.
- .....



- (v) මෙම සංගීත බණ්ඩය ලියා ඇති ෆෝම් එක කුමක් ද?  
இந்த இசைப் பெயர்ப்பு எந்த போர்மில் எழுதப்பட்டுள்ளது?  
In which form is this musical extract written?

.....

- (vi) සංගීත බණ්ඩය අවසන් වන කේඩන්සය නම් කරන්න.  
இசைப் பெயர்ப்பு முடிவுறும் கேடன்சைப் பெயரிடுக.  
Name the cadence that ends this musical extract.

.....

- (vii) මෙම සංගීත බණ්ඩය ෂුමාන් ලියූ සංගීත කෘතියක් වේ. මෙම සංගීත බණ්ඩයේ සංගීතඥයාගේ සම්පූර්ණ නම සුදුසු ස්ථානයක ලියන්න.  
இது ஷுமான் எழுதியதொரு இசைப் படைப்பாகும். இந்த இசைப் பெயர்ப்பின் இசை ஆக்குனரின் முழுப்பெயரைப் பொருத்தமானதோர் இடத்தில் எழுதுக.  
This musical extract is from a composition by Schumann. Write the composer's full name at the appropriate place on the music score.

- (viii) (a) ප්‍රධාන තනුව ඉදිරිපත් කර ඇත්තේ කිනම් ක්ලේෆ් එකේ ද?  
பிரதான மெட்டு எந்த கிளேப் இல் தரப்பட்டுள்ளது?  
In which clef does the main melody appear? .....

- (b) ක්ලේෆ් දෙකෙහි ඔක්ටේවයක පරතරින් වාදනය වන තනුව දැක්වෙන බාර් නම් කරන්න.  
இரண்டு கிளேப்புகளினதும் ஒக்டேவின் இடைவெளியில் இசைக்கப்படும் மெட்டு காட்டப்பட்டுள்ள பார் இணைப் பெயரிடுக.  
In which bars do the music play the melody in both clefs an octave apart? .....

- (ix) මෙම සංගීත බණ්ඩය වාදනය කළ යුතු ආකාරය එහි ලකුණු කර ඇති ටේම්පෝ හා ඩයිනමික්ස්වලට ගැලපෙන පරිදි කෙටියෙන් විස්තර කරන්න.  
இந்த இசைப் பெயர்ப்பை இசைக்க வேண்டிய விதத்தை அதில் குறித்துக்காட்டப்பட்டுள்ள ரெம்பෝ, டைனமிக்ஸ் ஆகியவற்றுக்குப் பொருந்தும் விதத்தில் சுருக்கமாக விவரிக்கുക.  
Describe briefly how this musical extract should be played to suite the given tempo and dynamic markings.

.....



- (x) පහත දී ඇති බේස් ක්ලේෆ් බාර් නො. 2 ක්වේචර් ස්වර හතර එම පිච් එකේම ට්‍රේබල් ක්ලේෆ් හි ලියන්න.  
கீழே தரப்பட்டுள்ள பேஸ் கிளேப் 2 ஆம் பார் இலக்க க்வேவர் ஸ்வரங்கள் நான்கையும் அதே சுருதியில் ட்ரெபல் கிளேப் இல் எழுதுக.  
Write the given four quaver notes in the bass clef of bar 2 in the same pitch using the treble clef.





3. (i) දී ඇති වචන සඳහා මොනොටෝනයක් භාවිත කරමින් රිද්මයක් ලියන්න.  
 தரப்பட்டுள்ள சொற்களுக்கு மொனரோன் ஒன்றைப் பயன்படுத்தி லயமொன்றை எழுதுக.  
 Write a rhythm pattern on a monotone to the given words.

Snow drops and daffodils,  
 Butterflies and bees,  
 Sail boats and fishermen,  
 Things of the sea.



- (ii) දී ඇති කනුළුවේ දක්නට ලැබෙන, පහත නම් කර ඇති ඉන්ටර්වල් රවුමකින් දක්වා a, b, c, d ලෙස නම් කරන්න.  
 தரப்பட்ட மெட்டில் காணக்கிடைக்கும் கீழே பெயரிடப்பட்டுள்ள இனரவல்களை வட்டமிட்டுக் காட்டி a, b, c, d எனப் பெயரிடுக.

In the given melody, circle and name the following intervals as a, b, c, d.

- a. Minor 2<sup>nd</sup>      b. Minor 3<sup>rd</sup>      c. Perfect 4<sup>th</sup>      d. Major 6<sup>th</sup>



4. (i) (a) නිවැරදි ඛේස් ස්වර යොදා a, b සහ c ලෙස ලකුණු කර ඇති කේවන්සය සම්පූර්ණ කරන්න.  
 சரியான பேஸ் ஸ்வரங்களைப் பயன்படுத்தி a, b, c எனக் குறிக்கப்பட்டுள்ள கேடன்சைப் பூரணப்படுத்துக.  
 Complete the cadences marked a, b and c by writing the correct Bass notes.

- (b) නිවැරදි ස්වර අගයන් භාවිත කරමින් d හි දක්වා ඇති පර්ෆෙක්ට් කේවන්සයේ සියලු ස්වර යොදා කේවන්සය සම්පූර්ණ කරන්න.

சரியான ஸ்வரப் பெறுமானங்களைப் இட்டு d இல் குறிப்பிடப்பட்டுள்ள பர்பெக்ட் கேடன்சின் அனைத்து ஸ்வரங்களையும் பயன்படுத்தி கேடன்சைப் பூரணப்படுத்துக.

Write out all notes of a perfect cadence at d, using correct note values.



a  
Imperfect  
cadence

b  
Plagal  
cadence


c  
Interrupted  
cadence

d  
Perfect  
Cadence

- (ii) එකම ශෛලියකට අයත් පිළිතුරු බණ්ඩයක් යොදා මෙම මෙලඩිය සම්පූර්ණ කරන්න. ගැලපෙන ටේම්පෝ, ෆ්ලේසිං හා ඩයිනමික්ස් සම්පූර්ණ මෙලඩියට යොදන්න.

ஒரே பாணியிலமைந்த விடைத் துண்டமொன்றைப் பயன்படுத்தி இந்த மெலடி இணைப் பூரணப்படுத்துக. பொருத்தமான ரெம்போ, பிரேசிங், டைனமிக்ஸ் ஆகிய குறியீடுகளை பூரண மெலடிக்குச் சேர்க்க.

Complete the melody by adding an answering phrase in the same style. Add suitable marks of tempo, phrasing and dynamics to the complete melody.




### B කොටස / பகுதி B / PART B

මනුම ප්‍රශ්න දෙකකට පිළිතුරු සපයන්න.

எவையேனும் இரண்டு வினாக்களுக்கு விடையளிக்குக.

Answer any two questions.

5. (i) එම පිටි එකේම දී ඇති සංගීත බණ්ඩය වෙබල් ක්ලෙෆ් හි නැවත ලියන්න. அதே சுருதியில் தரப்பட்டுள்ள இசைப் பெயர்ப்பை ட்ரெபல் கிளேப் இல் மீள எழுதுக. Rewrite the given musical extract in the same pitch in the Treble clef.
- (ii) වෙබල් ක්ලෙෆ් හි ලියූ මෙම මෙලඩිය හාර්මොනයිස් කිරීම සඳහා බේස් ස්ටාෆ්හි රෝම ඉලක්කමෙන් දක්වා ඇති ව්‍යවහාර, මිනිම් ලෙස ලියන්න. ட்ரெபல் கிளேப் இல் எழுதப்பட்ட இந்த மெட்டை ஹார்மோனய்ஸ் செய்வதற்காக பேஸ் ஸ்ராப்பில் உரோமன் இலக்கத்தில் குறிக்கப்பட்டுள்ள ட்ரயட் இணை மினிம் ஆக எழுதுக. Write the triads shown by the Roman numerals, as minims in the Bass staff to harmonize this melody written in the Treble clef.



- (iii) දී ඇති මෙලඩිය පෙරදිග සංගීත ස්වර ප්‍රස්තාරවලට සකස් කරන්න. தரப்பட்டுள்ள மெட்டை கீழைத்தேய ஸ்வர வரிசையாக மாற்றியமைக்குக. Convert the given melody to oriental music notation.



6. (i) ලෙබල්, ඇල්ටෝ, ටෙනර් හා බේස් ක්ලෝස් භාවිත කරමින් මෙම සංගීත බණ්ඩය නැවත ඕපන් ස්කෝර් එකෙන් ලියන්න.  
 ට්රොපල්, අල්ටෝ, ඩෙයුර්, ටෙනර්, ප්ලේස් කිලෝස් ආදිය වැනි පාඨවලින් පැහැදිලිව මෙම සංගීත බණ්ඩය නැවත ඕපන් ස්කෝර් එකෙන් ලියන්න.

Rewrite this musical extract in open score using Treble, Alto, Tenor and Bass clefs.

**Andante**

- (ii) පහත සංගීත කෘති රචනා කළ සංගීතඥයන් නම් කර, එක් සංගීතඥයකු පිළිබඳ කෙටි විස්තරයක් ලියන්න.  
 විවිධ වශයෙන් මෙම සංගීත ආකාරයන් ගැන විස්තරයක් ලියන්න. මෙම සංගීත ආකාරයන් පිළිබඳව විස්තරයක් ලියන්න.  
 විවිධ වශයෙන් මෙම සංගීත ආකාරයන් ගැන විස්තරයක් ලියන්න.

Name the composers of the following compositions. Write a brief description on one of the composers.

	Work	Composer
1	Six Folk Dances for Piano	
2	Don Giovanni	
3	Anna Magdalena Note book	
4	Dance of the Sugar Plum Fairy	

.....

.....

.....

.....

.....

.....

7. (i) (a) ප්ලෝග්‍රෑම් මිනිසාගේ සතු කුමක් දැයි කෙටියෙන් විස්තර කරන්න.  
 පුරෝකිතයක් මිනිසාගේ සතු කුමක් දැයි කෙටියෙන් විස්තර කරන්න.  
 Explain briefly Programme Music.

.....








.....

.....

- (b) පහත දී ඇති සංගීත භාණ්ඩවල රූප මගින් ප්‍රොකොෆ් සංගීතඥයාගේ 'පීටර් ඇන්ඩ් ද වූල්ෆ්' සංගීත කෘතියේ විවිධ චරිත නියෝජනය කරයි. මෙම රූප මගින් දැක්වෙන සංගීත භාණ්ඩ හඳුනාගෙන ඒවායින් නියෝජනය කරනු ලබන චරිතය නම් කරන්න.

පින්වරුම இசைக்கருவிகளின் படங்களின் மூலம் புரோகோபவ் என்ற இசை ஆக்குனரின் 'பீட்டர் அன்ட் த வுள்ப்' என்ற இசை ஆக்கத்தின் பல்வேறு பாத்திரங்கள் எடுத்துக்காட்டப்படுகின்றன. இந்தப் படங்களின் மூலம் காட்டப்பட்டுள்ள இசைக்கருவிகளை இனங்கண்டு அவற்றினால் எடுத்துக்காட்டப்படுகின்ற கதாபாத்திரங்களைப் பெயரிடுக.

The following pictures of the instruments represent characters of 'Peter and the Wolf' by Prokofiev. Identify the instruments in the given pictures and name the characters they represent in the story.

	Name of Instrument	Character in the story
1		
2		
3		
4		
5		
6		
7		



Department of Examinations Sri Lanka